


Oddział Międzyuczelniany PTTK w Warszawie

Egzamin na Organizatora Turystyki OM PTTK – 21.05.2013



Egzamin składa się z „wejściówki” (4 pytania) oraz 38 pytań pogrupowanych w 10 działów. Punktacja dla poszczególnych pytań została przedstawiona obok.

Zaliczenie egzaminu polega na uzyskaniu:

- z „wejściówki” co najmniej 81 punktów – w przypadku uzyskania mniejszej liczby punktów praca nie będzie dalej sprawdzana,
- z działów po co najmniej po 61 punktów.

Warunkiem dopuszczenia do ustnego egzaminu poprawkowego jest zdobycie po 61 punktów z przynajmniej 7 działów.

Życzymy powodzenia! :)

Komisja Egzaminacyjna

„Wejściówka”		
1		24
2		21
3		28
4		27
razem		100

Budownictwo drewniane		
5		40
6		20
7		20
8		20
razem		100

Etnografia		
9		26
10		19
11		55
razem		100

Architektura		
12		40
13		40
14		20
razem		100

PTTK jako organizacja		
15		12
16		20
17		28

18		40
razem		100

Pierwsza pomoc		
19		20
20		10
21		16
22		54
razem		100

Geografia turystyczna Polski		
23		40
24		30
25		30
razem		100

Historia turystyki		
26		48
27		20
28		32
razem		100

Terenoznawstwo		
29		22
30		38
31		20
32		20
razem		100

Przyroda i jej ochrona		
33		35
34		39
35		26
razem		100

Zagadnienia prawne w turystyce		
36		30
37		48
38		22
razem		100

„Wejściówka”

Pytanie 1 [24 pkt.]

Podaj pełną nazwę twojego macierzystego oddziału i koła.

Pytanie 2[21 pkt]

Rozwiń skróty:

PTK	
GTT	
PTT	

Pytanie 3[28 pkt]

Uzupełnij brakującą stolicę lub nazwę województwa.

Stolica	Województwo
Olsztyn	
	Mazowieckie
Szczecin	
	Podkarpackie
	Podlaskie
Zielona Góra	
	Śląskie

Pytanie 4[27 pkt]

Opisz, co musi zrobić (jakie warunki spełnić) Kursant, aby zostać Organizatorem Turystyki

--

Budownictwo drewniane

Pytanie 5 [40 pkt.]

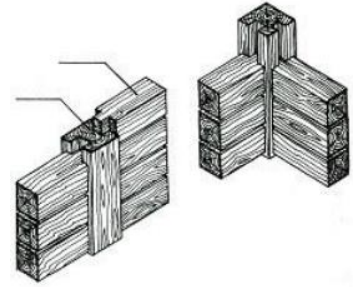
fot. Jerzy Antychowicz



Opisz, w co najwyżej 50 słowach obiekt przedstawiony na rysunku uwzględniając jego konstrukcję.

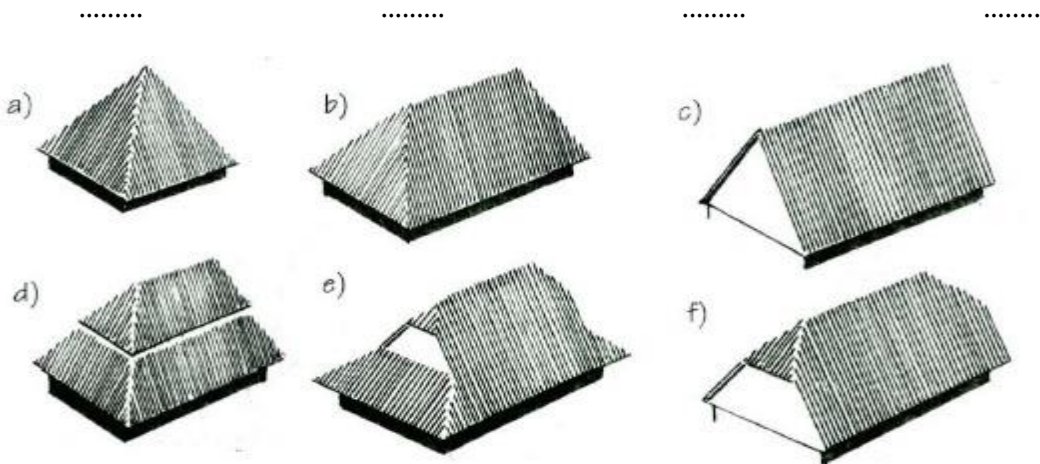
Pytanie 6 [20 pkt.]

a) Jaka konstrukcja pokazana jest na zdjęciu obok? (4 pkt.)



b) Przyporządkuj odpowiednie konstrukcje dachu (litery alfabetu) do podanych typów dachów (16 pkt.):

1. łamany polski 2. dwuspadowy 3. czterospadowy 4. brogowy



Pytanie 7 [20 pkt.]

Przyporządkuj podanym terminom ich definicje, wpisując w ostatniej kolumnie odpowiedni numer.

1	soboty	Ozdobne wielobarwne malowidła na ścianach bądź sklepieniach	
2	belka tęczowa	Drewniana zagroda mieszcząca pomieszczenia mieszkalne i gospodarcze pod jednym dachem	
3	szalunek	Pozioma belka przecinająca otwór pomiędzy prezbiterium a nawą, na której umieszczony jest krucyfiks	
4	polichromia	Deska służąca do pokrycia dachu o przekroju klina	
5	ikonostas	Niskie podcienia otaczające drewniane świątynie	
6	chyża	Obicie drewnianej konstrukcji deskami	
7	paltrak	Typ wiatraka w którym cała konstrukcja obraca się na rolkach	
8	gont	Ukośna belka konstrukcyjna dachu wzmocniana często jętką	
9	izbica	Ozdobna pokryta ikonami ściana w cerkwi oddzielająca prezbiterium od nawy głównej	
10	krokiew	Pomieszczenie znajdujące się w dzwonnicy, w którym znajdował się dzwon	

Pytanie 8 [20 pkt.]

Podaj 4 obiekty drewniane w Polsce znajdujące się na liście światowego dziedzictwa UNESCO

1	
2	
3	
4	

Etnografia

Pytanie 9 [26 pkt]

1. Wyjaśnij pojęcia [16 pkt]:

Mniejszość narodowa	
Mniejszość etniczna	

2. Ile jest mniejszości narodowych w Polsce objętych ustawą o mniejszościach? [10 pkt]

- a) 5 b) 6 c) 8 d) 9

Pytanie 10 [19 pkt]

1. Napisz ile jest ustawowych mniejszości etnicznych w Polsce [3 pkt]. wymień dwie (2 x 3 pkt) i opisz (scharakteryzuj) jedną mniejszość etniczną w Polsce (10 pkt):

Liczba mniejszości etnicznych w Polsce:	
---	--

2. Wymień dwie spośród ustawowych mniejszości etnicznych w Polsce [6 pkt].

1.		2.	
----	--	----	--

3. Scharakteryzuj jedną ze wskazanych powyższych mniejszości [10 pkt].

Mniejszość etniczna:
Opis:

Pytanie 11 [55 pkt.]

1. Wyjaśnij pojęcia [25 pkt]

Folusz	
Pazdur	
Carskie Wrota	
Żarna	
Pastor	

2. Przypisz pojęciom z lewej kolumny definicje z kolumny prawej wstawiając właściwą literę [15 pkt]

A	Macewa		Cmentarz Żydowski
B	Kirkut		Wysoka wieża przy meczecie, z której nawołuje się wiernych
C	Minaret		Pięcioksiąg Mojżeszowy
D	Koran		Nagrobna płyta
E	Tora		Święta księga Islamu

3. Przypisz definicję do zawodu [15 pkt]

A	Zdun		Rwanie zębów, leczenie lekkich chorób, golenie
B	Bednarz		Rzemieślnik wykonujący piece
C	Cyrulik		Rzemieślnik wykonujący narzędzia i broń z metalu, podkuwający konie
D	Cadyk		Rzemieślnik wykonujący beczki
E	Kowal		Charyzmatyczny przywódca chasydyzmu, podobno umiał uzdrawiać i czynić cuda

Architektura

Pytanie 12 [40 pkt]



Opisz w 50 słowach budynek przedstawiony na zdjęciu.

Pytanie 13 [40 pkt.]

Określ style zabytkowych budowli z terenu Polski widocznych na zdjęciach i orientacyjne ramy czasowe, w jakich te budowle mogły powstać, opisz charakterystyczne cechy budowli wznoszonych na terenie Polski w tych stylach i podaj po jednym innym przykładzie obiektów reprezentujących te style.



<p>Styl <i>[2 pkt]</i></p>		<p>Styl <i>[2 pkt]</i></p>	
<p>Przybliżony czas powstania <i>[2 pkt]</i></p>		<p>Przybliżony czas powstania <i>[2 pkt]</i></p>	
<p>Cechy charakterystyczne stylu (4 cechy) <i>[4 pkt]</i></p>		<p>Cechy charakterystyczne stylu (4 cechy) <i>[4 pkt]</i></p>	
<p>Przykład innej budowli w tym stylu <i>[2 pkt]</i></p>		<p>Przykład innej budowli w tym stylu <i>[2 pkt]</i></p>	



Styl
[2 pkt]

Styl
[2 pkt]

Przybliżony czas
powstania
[2 pkt]

Przybliżony czas
powstania
[2pkt]

Cechy
charakterystyczne
stylu (4 cechy)
[4 pkt]

Cechy
charakterystyczne
stylu (4 cechy)
4 pkt]

Przykład
innej budowli
w tym stylu
[2 pkt]

Przykład
innej budowli
w tym stylu
[2 pkt]

Pytanie 14 [20 pkt.]



1. Zdjęcie obok przedstawia:
 - a) średniowieczny zamek
 - b) renesansowe Miasto Idealne
 - c) barokowy pałac posiadający cechy obronne
2. Widoczny element budowli na załamaniach obwałowania to:
 - a) gdanisko
 - b) bastion
 - c) barbakan

PTTK jako organizacja

Pytanie 15 [12 pkt]

Wymień po 3 prawa i 3 obowiązki członka PTTK.

PRAWA	OBOWIĄZKI
1.	1.
2.	2.
3.	3.

Pytanie 16 [20 pkt]

Zaznacz krzyżykiem, które z wymienionych kół należą do OM PTTK w Warszawie.

NAZWA KOŁA	TAK	NIE
Koło PTTK nr 1 „Jedynka” przy PW		
Koło PTTK nr 4 Studencki Klub Podróżniczy „Czwórka”		
Koło PTTK nr 7, Studenckie Koło Przewodników Turystycznych		
Koło PTTK nr 9, Koło Przewodników Beskidzkich		
Koło PTTK nr 16, Akademicki Klub Turystyczny SGGW		
Koło PTTK nr 18, Koło nr 18 Miłośników Nieznajowej		
Koło PTTK nr 23, Studencki Klub Przewodników Turystyki Górskiej		
Koło PTTK nr 26, Klub Turystyczny Ekonomistów „Tramp”		
Koło PTTK nr 44, „Stowarzysze”		
Koło PTTK nr 69		

Pytanie 17 [28 pkt.]

Zaznacz prawidłową odpowiedź :



- Prezesem OM w obecnej kadencji jest:
a) Magdalena Słok – Wódkowska c) Rafał Kwatek
b) Łukasz Wódkowski d) Szymon Bijak
- Sąd koleżeński może wymierzyć karę w formie:
a) chłosty b) nagany c) szafotu d) pokuty
- Najwyższą władzą PTTK jest:
a) Walny Zjazd PTTK c) Sekretarz SKG
b) Pierwszy Sekretarz d) Zarząd OM
- W weryfikacje terenowym działającym przy OM nie można zweryfikować odznaki:
a) Górską Odznaką Turystyczną
b) Turysta Grotołaz
c) Szlakiem Zabytków Architektury Drewnianej w Warszawie
d) Żeglarską Odznaką Turystyczną

Pytanie 18 [40 pkt]

(Zwolnienie dla osób posiadających odznaki TAK/NIE)

- Wymień 3 odznaki ustanowione przez Oddział Międzyuczelniany PTTK w Warszawie [12 pkt]:

- Podaj pełne nazwy poniższych odznak – bez stopnia. [28 pkt]:

ODZNAKA	NAZWA
	
	

Pierwsza pomoc

Pytanie 19 [20 pkt]

Przyporządkuj Służby ratunkowe do odpowiednich numerów telefonów i wpisz odpowiadające im litery A-J w puste pola przy numerach.

A.	TOPR/GOPR
B.	WOPR
C.	Pogotowie ratunkowe
D.	Policja
E.	Straż pożarna
F.	TOPR/GOPR
G.	Pogotowie gazowe
H.	Pogotowie energetyczne
I.	Straż Miejska
J.	Centrum Powiadamiania Ratunkowego

	999
	112
	998
	997
	986
	991
	992
	601 100 100
	601 100 300
	985

Pytanie 20 [10 pkt]

W czasie twojego wyjazdu zdarzył się wypadek – uczestnik złamał nogę. Podaj schemat meldunku składanego służbom ratunkowym.

--

Pytanie 21 [16 pkt]

1. Opisz w jaki sposób (zgodnie z Kodeksem Ruchu Drogowego) powinna poruszać się po drogach [8 pkt]:

Grupa licząca poniżej 10 osób	
Grupa licząca powyżej 10 osób	

2. Podaj schemat resuscytacji krążeniowo-oddechowej dla osoby dorosłej [8 pkt]:

--

Pytanie 22 [54 pkt] *test wielokrotnego wyboru*

1. Uczestnikowi wyjazdu zaczyna lecieć obficie krew z nosa:

- a) odchylasz głowę do tyłu,
- b) pochylasz głowę do przodu,
- c) robisz zimny okład na kark,
- d) zaciskasz skrzydełka nosa chusteczką na 10 min.

2. Uczestnika wyjazdu ukąsiła pszczoła w rękę, miejsce ukąszenia bardzo spuchło i zaczerwieniło się:

- a) nad miejsce ukąszenia zakładasz opaskę uciskową,
- b) wydłubasz żądło,
- c) podajesz wapno,
- d) obserwujesz, czy nie zwiększa się opuchlizna i w razie potrzeby kontaktujesz się z lekarzem.

3. Uczestnik wyjazdu po studenckich bazach namiotowych uskarża się na otarcia stóp i bąble:

- a) przekłuwasz bąble,
- b) zakładasz sączek, żeby odprowadzić gromadzący się płyn,
- c) skrucasz trasę następnego dnia,
- d) dbasz, aby uczestnik dokładnie umył i wysuszył stopy.

4. Podczas zwiedzania muzeum w upalny dzień uczestniczka wyjazdu na twoich oczach osuwa się na ziemię:

- a) otwierasz okno,
- b) polewasz ją zimną wodą,
- c) poluźniasz ubranie (pasek od spodni, chustka na szyi),
- d) układasz ją na plecach, podnosisz nogi i rękę do góry.

5. Po całodniowej wycieczce po połoninach bieszczadzkich w upalny dzień uczestnik wyjazdu skarża się na ból i zawroty głowy oraz nudności:

- a) podajesz mu dużo płynów
- b) podajesz mu leki przeciwbólowe
- c) przenosisz go w zacienione, chłodne miejsce
- d) skracasz trasę następnego dnia

6. Które z poniższych metod obowiązkowo zastosujesz dla zapobiegania zatruciom pokarmowym podczas wyjazdów?

- a) jedzenie tylko liofilizowanej żywności,
- b) kontrola terminów ważności produktów,
- c) unikanie picia wody z niepewnych źródeł,
- d) dbanie o higienę posiłków.

7. Organizujesz dwutygodniowy obóz wędrowny po Beskidach. Na co zwrócisz uwagę uczestnikom, żeby zminimalizować ryzyko pojawienia się otarć stóp i pęcherzy na wyjeździe?

- a) żeby dbali o higienę stóp,
- b) żeby nosili jak najcieńsze skarpety,
- c) żeby na wyjazd najlepiej zakupili nowe, niezniszczone obuwie,
- d) nic im nie mówisz, pęcherze i otarcia i tak są nieuniknione.

8. Organizując zimową wycieczkę turystyczną na Babią Górę zwrócisz uczestnikom uwagę, aby:

- a) zabrali ze sobą krem ochronny na zimę,
- b) zabrali ze sobą krem z filtrem UV,
- c) mieli ze sobą i uzupełniali co rano termos z gorącym napojem,
- d) mało pili, bo przyjmowanie płynów powoduje nadmierne pocenie się i w konsekwencji może prowadzić do wychłodzenia.

9. W trakcie zimowej wycieczki uczestnik skarża się na ból, pieczenie i drętwienie zaczerwienionych rąk, co robisz?

- a) podajesz gorącą herbatę do picia,
- b) nacierasz ręce śniegiem,
- c) polecasz zmienić rękawiczki na suche,
- d) polecasz włożenie rąk do gorącej wody.

Geografia Turystyczna Polski

Pytanie 23 [40 pkt]

1. Uzupełnij tabelę elementami z poniższej listy, 4 elementy pozostaw niewykorzystane. [20 pkt.]

Góry Złote, Łysica, Beskid Niski, Tarnica, Góry Kamienne, Skopiec, Kowadło, Góry Świętokrzyskie, Lackowa, Góry Bardzkie, Gorce, Waligóra, Bieszczady, Turbacz, 612 m, 936 m, 989 m, 997 m, 1310 m

Pasma górskie	Najwyższy szczyt	Wysokość

2. Scharakteryzuj wybrany z poniższej listy region turystyczny uwzględniając atrakcje turystyczne, zagospodarowanie turystyczne, zabytki, ciekawostki przyrodnicze i kulturalne. [20 pkt.]

Karkonosze, Pogórze Przemyskie, Pojezierze Mazurskie, Żuławy Wiślane, Wyżyna Kielecka

Opis:

Pytanie 24 [30 pkt.]



Zaznacz na podanej mapie Polski położenie **piętnastu** wybranych z poniższej listy miejsc:

1	Bydgoszcz	11	Częstochowa
2	Zielona Góra	12	Ruciane Nida
3	Suwałki	13	Kielce
4	Rzeszów	14	Legnica
5	Malbork	15	Szczecin
6	Sandomierz	16	Katowice
7	Kampinos	17	Wadowice
8	Ciechanów	18	Jelenia Góra
9	Świnoujście	19	Kłodzko
10	Ustrzyki Górne	20	Opole

Pytanie 25 [30 pkt.]

Przyporządkuj podanym miejscowościom znajdujące się tam charakterystyczne obiekty.

1	Bohoniki	A	Wilczy Szaniec bunkier Adolfa Hitlera
2	Żelazowa Wola	B	Zabytkowa kopalnia soli
3	Srebrna Góra	C	Muzeum Budownictwa Ludowego
4	Bystrzyca Kłodzka	D	Jaskinia Niedźwiedzia
5	Gierłoż	E	Ruiny gotyckiego zamku z XIV w.
6	Sztutowo	F	Fort Ostróg
7	Wieliczka	G	Drewniany meczet
8	Sanok	H	Muzeum Filumenistyczne
9	Kletno	I	Dom urodzenia Fryderyka Chopina
10	Czorsztyn	J	Niemiecki obóz koncentracyjny

Historia turystyki

Pytanie 26 [48 pkt.] test jednokrotnego wyboru

Zaznacz prawidłową odpowiedź:

1. PTK zostało założone w:

- a) Krakowie
- b) Lwowie
- c) Wrocławiu
- d) Warszawie

2. W latach międzywojennych PTT nie działało na terenie:

- a) Tatr
- b) Beskidu Żywieckiego
- c) Gór Izerskich
- d) Gubałówki

3. Kto wyznakował pierwszy szlak w Tatrach

- a) Adam Chmielowski
- b) Walery Goetel
- c) Walery Eliasz-Radzikowski
- d) Miłorząd Japoński

4. "Wojna na pędzle" nie toczyła się:

- a) w okolicy Babiej Góry
- b) w Karpaczu
- c) z udziałem Władysława Midowicza
- d) z działaczami Beskidenverain

5. Najwyższym szczytem znajdującym się na ziemiach należących do Państwa Polskiego (w historii) były/była/był:

- a) Rysy
- b) Howerla
- c) Zadni Gerlach
- d) Altana

6. Od którego roku można zdobywać odznakę GOT?:

- a) 1935
- b) 1873
- c) 1909
- d) 1952

7. Założycielem TOPR był m.in.

- a) Władysław Krygowski c) Mariusz Zaruski
b) Edward Moskała d) Mieczysław Karłowicz

8. Pierwsza udokumentowana wycieczka w Tatry odbyła się w roku 1565, a jedną z osób w niej uczestniczących:

- a) był Leszek Drożdżyński c) był Michał Radziwiłł
b) był Stanisław Staszic d) była Beata Łaska z Kościeliskich


Pytanie 27 [20 pkt.]

W którym roku miało miejsce każde z następujących wydarzeń

WYDARZENIE	DATA
Założenie PTT	
Powstanie TOPR	
Powstanie Warszawskiego OM PTTK	
Powstanie PTTK	

Pytanie 28 [32 pkt]

Na zdjęciu przedstawiona jest pieczęć Polskiego Towarzystwa Krajoznawczego. Opisz krótko, co przedstawia pieczęć [12 pkt], oraz co wiesz o historii PTK (uwzględniając założycieli, datę powstania, charakter działalności, najistotniejsze fakty z historii organizacji).

 <p>Pieczęć PTK</p>	
--	--

Terenoznawstwo

Pytanie 29 [22 pkt.]

1. Korzystając z załączonej mapy odpowiedz na poniższe pytania:

Podaj 4 możliwości noclegu na obszarze objętym mapą [12 pkt.]		
Jaką wartość ma azymut wyznaczony ze szczytu Żabiej na szczyt Cergowej? [6 pkt.]		
Na jakiej wysokości n.p.m. znajduje się próg skoczni narciarskiej na stokach Przedziwnej? [4 pkt.]		

Pytanie 30 [38 pkt]

1. Planujesz całodzienną wycieczkę ze znajomymi na trasie Iwonicz Zdrój-Cergowa-Iwonicz Zdrój czerwonym szlakiem. Podaj długość trasy w kilometrach oraz sumę przewyższeń w metrach [10 pkt]

2. Narysuj schematyczny profil wysokościowy wycieczki zaplanowanej w zad. 1.: [10 pkt]

3. Następnego dnia jedziecie do Dukli w celu zwiedzenia miejscowości. Podaj atrakcje krajoznawcze miasteczka na podstawie mapy. [18 pkt]

Pytanie 31 [20 pkt] *test jednokrotnego wyboru*

1. Azymut 180 stopni oznacza:

- | | |
|-----------|-------------|
| a) Wschód | c) Południe |
| b) Zachód | d) Północ |

2. Jar o szerokości 0,7 cm na mapie w skali 1:40 000 w rzeczywistości będzie miał szerokość:

- | | |
|----------|-----------|
| a) 28 m | c) 280 cm |
| b) 280 m | d) 2,8 km |

3. WSW na róży wiatrów oznacza azymut:

- | | |
|-------------|-------------|
| a) 247,5 st | c) 337,5 st |
| b) 315 st | d) 270 st |

4. Podaj definicję deklinacji magnetycznej.

a) zakłócenie ziemskiego pola magnetycznego przez obiekty znajdujące się w pobliżu kompasu magnetycznego np.: stalowa wieża widokowa itp.

b) kąt poziomy w danym miejscu na powierzchni Ziemi pomiędzy południkiem magnetycznym i geograficznym

c) kąt poziomy między kierunkiem marszu a północą

d) niedokładność pomiaru kompasu spowodowana zmęczeniem magnesu

5. Które obiekty na niebie mają podstawowe znaczenie w orientacji?

a) Wenus, Mars i Księżyc

c) Gwiazda Polarna, Księżyc i Słońce

b) Słońce, Księżyc i Wielki Wóz

d) Gwiazda Polarna, Krzyż Południa i Słońce

Pytanie 32 [20 pkt.]

Wypełnij poniższą tabelę:

	Skala mapy	Odległość na mapie	Odległość w terenie
A.	1:10 000		220 m
B.		8,4 cm	2,1 km
C.		3,7 cm	925 m
D.	1:40 000	29 mm	

Przyroda i jej ochrona

Pytanie 33 [35 pkt.] test jednokrotnego wyboru

1. sztuczne wprowadzenie gatunku na teren, gdzie niegdyś występował, ale wyginął to:

a) biocenoza

c) ochrona ex situ

b) reintrodukcja

d) ekoton

2. endemity to:

a) gatunki roślin i zwierząt unikalne dla danego miejsca albo regionu, nigdzie indziej nie występujące naturalnie

b) strefy przejściowe między dwoma ekosystemami, zawierające gatunki charakterystyczne dla obydwu

c) organizmy roślinne i zwierzęce będące na danym obszarze pozostałościami minionych epok

d) obszary umożliwiające migrację roślin, zwierząt lub grzybów

3. piętro alpejskie (halne) nie występuje:

a) w Karkonoszach

c) na Babiej Górze

b) w Tatrach

d) w Pieninach

4. Które ze zwierząt nie podlega ochronie całkowitej (całorocznej) w Polsce:

a) Bóbr

b) Bocian

c) Świstak

d) Zając Szarak

5. Gołoborza są charakterystyczne dla:
- Kujaw
 - Gór Świętokrzyskich
 - Mazowsza
 - Roztocza
6. Stałym zakazem wstępu nie są objęte lasy stanowiące:
- ostoje zwierząt
 - źródlika rzek i potoków
 - obszar chronionego krajobrazu
 - drzewostany nasienne
7. Strefa ochronna granicząca z formą ochrony przyrody, wyznaczona dla jej zabezpieczenia przed zagrożeniami zewnętrznymi wynikającymi z działalności człowieka, to:
- otulina
 - ekoton
 - obszar specjalnej ochrony Natura 2000
 - specjalny obszar ochrony Natura 2000

Pytanie 34 [39 pkt]

- a) Dopasuj pojęcia: **ochrona ścisła, ochrona czynna, ochrona częściowa** [9 pkt]

	ochrona gatunków dopuszczająca możliwość redukcji liczebności populacji i pozyskiwania osobników lub ich części
	zabiegi stosowane w celu przywrócenia naturalnego stanu ekosystemów i ich składników lub zachowania siedlisk przyrodniczych i siedlisk gatunków
	w przypadku obszarów całkowite i trwale zaniechanie bezpośredniej ingerencji człowieka, a w przypadku gatunków - całoroczna ochrona osobników i stadiów ich rozwoju

- b) Podaj 2 sytuacje w których można legalnie poruszać się w Polsce po parku narodowym, poza wyznaczonymi szlakami turystycznymi [10 pkt]

--	--

- c) Podaj 2 przykładowe przyczyny wprowadzenia okresowego zakazu wstępu do lasu (lub jego fragmentu) w Polsce [10 pkt]

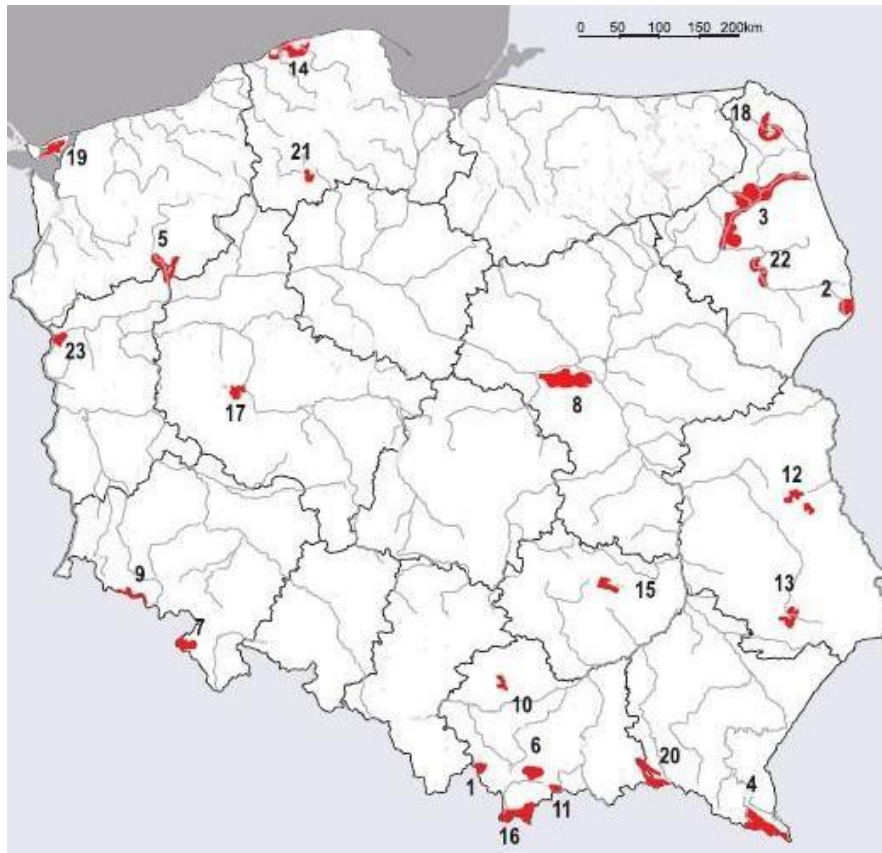
--	--

- d) Wymień 5 wyróżnianych w polskim prawie form ochrony przyrody [10 pkt]

--	--	--	--	--

Pytanie 35 [26 pkt]

a) Podpisz zaznaczone parki narodowe [23 pkt]



1		13	
2		14	
3		15	
4		16	
5		17	
6		18	
7		19	
8		20	
9		21	
10		22	
11		23	
12			

b) Podaj nazwy 3 parków narodowych transgranicznych [3 pkt]

--	--	--

Zagadnienia prawne w turystyce

Pytanie 36 [30 pkt]

Jakie elementy powinno zawierać rozliczenie imprezy?

--

Pytanie 37 [48 pkt]

Oceń czy podane zdania są prawdziwe. Wpisz TAK lub NIE

Oddział Międzyuczelniany PTTK:	
Prowadzi działalność gospodarczą.	
Jest OPP.	
Jest stowarzyszeniem rejestrowym.	
Podlega przepisom Ustawy o usługach turystycznych.	
Wolontariusz OM:	
Musi mieć aktualny znaczek członkowski PTTK.	
Może być członkiem dowolnego oddziału.	
Musi mieć uprawnienia państwowe.	
Jest objęty ubezpieczeniem OC na prowadzonej przez siebie imprezie.	
Może prowadzić imprezę w ramach OM, tylko jeśli została ona zgłoszona.	
Jest objęty ubezpieczeniem NNW gdy jeździ rowerem po górskim szlaku	
Może nieodpłatnie oprowadzać wycieczkę po Krakowie.	

Imprezę na ponad 200 osobodni powinien zgłosić z wyprzedzeniem co najmniej 14 dni.	
Ma prawo do zniżki 50% w schroniskach PTTK.	
Członkowie PTTK:	
Mogą korzystać z rabatów w schroniskach PTTK.	
Są objęci ubezpieczeniem od NNW	
Aby mieć ciągłość członkostwa w PTTK powinni do 31.03 każdego roku wykupić znaczek członkowski.	
Są objęci ubezpieczeniem zdrowotnym.	
Mogą wybierać delegatów na Krajowe Narady	
Wyjeżdżając w Tatry Słowackie muszą wykupić ubezpieczenie od akcji ratowniczej wymagane przez Horską Służbę	
Strefa Schengen:	
Państwem Członkowskimi Unii Europejskiej (UE), pozostającym poza obszarem Schengen jest Irlandia.	
Każdy obywatel Polski ma prawo do swobodnego wjazdu na terytorium Holandii	
Aby przekroczyć zewnętrzną granicę strefy Schengen potrzebna jest, prócz dowodu osobistego, wiza.	
Granice wewnętrzną strefy Schengen można przekraczać wszędzie za dnia, a w nocy przez przejścia graniczne	
Wyjeżdżając do kraju Strefy Schengen musimy mieć ze sobą dowód tożsamości	
Kontrola celna może odbywać się tylko na przejściu granicznym	

Pytanie 38 [22 pkt]

Dla przedstawionych poniżej ułóż schemat działania wykorzystując wymienione poniżej punkty. Jeśli uważasz, że jakiegoś punktu brakuje możesz go dopisać.

1. Umundurowany funkcjonariusz Straży Granicznej żąda okazania dokumentów tożsamości oraz zawartości plecaków uczestników wycieczki.
2. Kierownik pociągu którym jedziesz chce zarekwirować legitymację studencką uczestnika Twojego obozu, twierdząc że jest podrobiona.

A	Prosisz o okazanie legitymacji służbowej	H	Odmawiasz pokazania zawartości
B	Pytasz o podstawę podjętych działań	I	Dzwonisz na policję
C	Pokazujesz dokumenty	J	Dzwonisz do SOK
D	Pozwalasz zabrać legitymację	K	robisz zdjęcie zakwestionowanej legitymacji
E	Mówisz „Dzień dobry”	L	Mówisz, że jesteś wolontariuszem OPP i nie musisz okazywać dokumentów
F	Pokazuję zawartość plecaka	M	Spisujesz dane z okazanej legitymacji
G	Odmawiasz okazania dokumentów	N	Życzysz miłego dnia

Wpisz kolejno litery.

1.	2.
----	----